

Azonosító  
jel:

|  |  |  |  |  |  |  |  |  |  |  |  |  |  |  |  |  |  |  |  |
|--|--|--|--|--|--|--|--|--|--|--|--|--|--|--|--|--|--|--|--|
|  |  |  |  |  |  |  |  |  |  |  |  |  |  |  |  |  |  |  |  |
|--|--|--|--|--|--|--|--|--|--|--|--|--|--|--|--|--|--|--|--|

**ÉRETTSÉGI VIZSGA • 2024. október 15.**

# MATEMATIKA

## EMELT SZINTŰ ÍRÁSBELI VIZSGA

**2024. október 15. 8:00**

Időtartam: 240 perc

| Pótlapok száma |  |
|----------------|--|
| Tisztázati     |  |
| Piszkozati     |  |

**OKTATÁSI HIVATAL**

Azonosító  
jel:

|  |  |  |  |  |  |  |  |  |  |  |  |  |  |  |  |  |  |  |  |  |
|--|--|--|--|--|--|--|--|--|--|--|--|--|--|--|--|--|--|--|--|--|
|  |  |  |  |  |  |  |  |  |  |  |  |  |  |  |  |  |  |  |  |  |
|--|--|--|--|--|--|--|--|--|--|--|--|--|--|--|--|--|--|--|--|--|

---

|  |  |  |  |  |  |  |  |  |  |  |  |  |  |  |  |  |  |  |  |
|--|--|--|--|--|--|--|--|--|--|--|--|--|--|--|--|--|--|--|--|
|  |  |  |  |  |  |  |  |  |  |  |  |  |  |  |  |  |  |  |  |
|--|--|--|--|--|--|--|--|--|--|--|--|--|--|--|--|--|--|--|--|

## Fontos tudnivalók

1. A feladatok megoldására 240 perc fordítható, az idő leteltével a munkát be kell fejeznie.
2. A feladatok megoldási sorrendje tetszőleges.
3. A II. részben kitűzött öt feladat közül csak négyet kell megoldania. **A nem választott feladat sorszámát írja be a dolgozat befejezésekor az alábbi négyzetbe!** Ha a javító tanár számára *nem derül ki egyértelműen*, hogy melyik feladat értékelését nem kéri, akkor a kitűzött sorrend szerinti legutolsó feladatra nem kap pontot.

|  |
|--|
|  |
|--|

4. A feladatok megoldásához szöveges adatok tárolására és megjelenítésére nem alkalmas zsebszámológépet és bármilyen négyjegyű függvénytáblázatot használhat, más elektronikus vagy írásos segédeszköz használata tilos!
5. **A megoldások gondolatmenetét minden esetben írja le, mert a feladatra adható pontszám jelentős része erre jár!**
6. **Ügyeljen arra, hogy a lényegesebb részszámítások is nyomon követhetők legyenek!**
7. A gondolatmenet kifejtése során **a zsebszámológép használata – további matematikai indoklás nélkül – a következő műveletek elvégzésére fogadható el:** összeadás, kivonás, szorzás, osztás, hatványozás, gyökvonás,  $n!$ ,  $\binom{n}{k}$  kiszámítása, a függvénytáblázatban fellelhető táblázatok helyettesítése ( $\sin$ ,  $\cos$ ,  $\operatorname{tg}$ ,  $\log$  és ezek inverzei), a  $\pi$  és az  $e$  szám közelítő értékének megadása, nullára rendezett másodfokú egyenlet gyökeinek meghatározása. További matematikai indoklás nélkül használhatók a számológépek az átlag és a szórás kiszámítására abban az esetben, ha a feladat szövege kifejezetten nem követeli meg az ezzel kapcsolatos részletszámítások bemutatását is. **Egyéb esetekben a géppel elvégzett számítások indoklás nélküli lépéseknek számítanak, így azokért nem jár pont.**
8. A feladatok megoldásánál használt tételek közül az iskolában tanult, névvel ellátott tételeket (pl. Pitagorasz-tétel, magasságtétel) nem kell pontosan megfogalmazva kimondania, elég csak a tétel megnevezését említenie, de az alkalmazhatóságát röviden indokolnia kell. Egyéb tétel(ek)re való hivatkozás csak akkor fogadható el teljes értékűnek, ha az állítást minden feltételével együtt pontosan mondja ki (bizonyítás nélkül), és az adott problémában az alkalmazhatóságát indokolja.
9. A feladatok végeredményét (a feltett kérdésre adandó választ) szöveges megfogalmazásban is közölje!
10. A dolgozatot tollal írja, de az ábrákat ceruzával is rajzolhatja. Az ábrákon kívül a ceruzával írt részeket a javító tanár nem értékelheti. Ha valamilyen megoldást vagy megoldásrészletet áthúz, akkor az nem értékelhető.
11. Minden feladatnak csak egy megoldása értékelhető. Több megoldási próbálkozás esetén **egyértelműen jelölje**, hogy melyiket tartja érvényesnek!
12. Kérjük, hogy **a szürkített téglalapokba semmit ne írjon!**

|  |  |  |  |  |  |  |  |  |  |  |  |  |  |  |  |  |  |  |  |
|--|--|--|--|--|--|--|--|--|--|--|--|--|--|--|--|--|--|--|--|
|  |  |  |  |  |  |  |  |  |  |  |  |  |  |  |  |  |  |  |  |
|--|--|--|--|--|--|--|--|--|--|--|--|--|--|--|--|--|--|--|--|

**I.**

1. a) Legyen  $a$  és  $b$  két pozitív valós szám. Határozza meg az alábbi állítás logikai értékét (igaz vagy hamis)! Válaszát indokolja!
- „Ha  $a > 6$  és  $b > 8$ , akkor  $a$  és  $b$  számtani közepe nagyobb 7-nél.”
- b) Fogalmazza meg az előbbi állítás megfordítását, és határozza meg a megfordított állítás logikai értékét is! Válaszát indokolja!
- c) Határozza meg az  $x$  pozitív valós szám értékét úgy, hogy a 7-nek és az  $x$ -nek a harmonikus közepe 10 legyen!
- d) Tudjuk, hogy az  $(A \wedge \neg B) \wedge (A \vee \neg C)$  kijelentés logikai értéke igaz. Mit lehet tudni az  $A$ ,  $B$  és  $C$  kijelentések logikai értékéről? Tegyen X-et az alábbi táblázat megfelelő celláiba! (Válaszait itt nem kell indokolnia.)

|     | biztosan igaz | biztosan hamis | nem lehet eldönteni |
|-----|---------------|----------------|---------------------|
| $A$ |               |                |                     |
| $B$ |               |                |                     |
| $C$ |               |                |                     |

|            |         |  |
|------------|---------|--|
| <b>a)</b>  | 2 pont  |  |
| <b>b)</b>  | 3 pont  |  |
| <b>c)</b>  | 4 pont  |  |
| <b>d)</b>  | 3 pont  |  |
| <b>Ö.:</b> | 12 pont |  |

Azonosító  
jel:

|  |  |  |  |  |  |  |  |  |  |  |  |  |  |  |  |  |  |  |  |  |
|--|--|--|--|--|--|--|--|--|--|--|--|--|--|--|--|--|--|--|--|--|
|  |  |  |  |  |  |  |  |  |  |  |  |  |  |  |  |  |  |  |  |  |
|--|--|--|--|--|--|--|--|--|--|--|--|--|--|--|--|--|--|--|--|--|

---

|  |  |  |  |  |  |  |  |  |  |  |  |  |  |  |  |  |  |  |  |
|--|--|--|--|--|--|--|--|--|--|--|--|--|--|--|--|--|--|--|--|
|  |  |  |  |  |  |  |  |  |  |  |  |  |  |  |  |  |  |  |  |
|--|--|--|--|--|--|--|--|--|--|--|--|--|--|--|--|--|--|--|--|

2. Amikor egy csésze forró folyadékot beviszünk egy szobába, akkor a folyadék hőmérsékletének változását jó közelítéssel – Newton lehülési törvénye szerint – a következő képlet írja le:  $T(t) = H + (T(0) - H) \cdot 2^{ct}$ .

A képletben  $T(t)$  a folyadék hőmérséklete a vizsgálat kezdetétől számított  $t$  perc elteltével,  $H$  a szoba (állandónak tekinthető) hőmérséklete,  $T(0)$  a folyadék kezdeti hőmérséklete ( $T(0) > H$ ),  $c$  pedig a lehülő folyadékot jellemző konstans. (A hőmérsékletet °C-ban mérjük.)

Egy csésze 75 °C-os kávé beviszünk egy 25 °C hőmérsékletű szobába. A kávéra jellemző  $c$  érték  $-0,209$ .

- a) Számítsa ki, hogy negyedóra múlva milyen hőmérsékletű lesz a kávé!
- b) A vizsgálat kezdetétől számítva mennyi idő múlva hűl le a kávé 25,5 °C hőmérsékletűre?

Egy csésze 85 °C-os hőmérsékletű kávé beviszünk egy ismeretlen hőmérsékletű szobába. 10 perc alatt a kávé 40 °C-ra hűl le.

- c) Határozza meg a szoba hőmérsékletét!

|     |         |  |
|-----|---------|--|
| a)  | 4 pont  |  |
| b)  | 4 pont  |  |
| c)  | 4 pont  |  |
| Ö.: | 12 pont |  |

Azonosító  
jel:

|  |  |  |  |  |  |  |  |  |  |  |  |  |  |  |  |  |  |  |  |
|--|--|--|--|--|--|--|--|--|--|--|--|--|--|--|--|--|--|--|--|
|  |  |  |  |  |  |  |  |  |  |  |  |  |  |  |  |  |  |  |  |
|--|--|--|--|--|--|--|--|--|--|--|--|--|--|--|--|--|--|--|--|

---

Azonosító  
jel:

|  |  |  |  |  |  |  |  |  |  |  |  |  |  |  |  |  |  |  |  |
|--|--|--|--|--|--|--|--|--|--|--|--|--|--|--|--|--|--|--|--|
|  |  |  |  |  |  |  |  |  |  |  |  |  |  |  |  |  |  |  |  |
|--|--|--|--|--|--|--|--|--|--|--|--|--|--|--|--|--|--|--|--|

3. a) Oldja meg az alábbi egyenletet a valós számok halmazán!

$$|2 \sin^2 x + 7 \sin x + 1| = 5$$

- b) Határozza meg az  $f: \mathbf{R} \rightarrow \mathbf{R}, x \mapsto \sin x$  függvény grafikonja, az  $x = \frac{\pi}{6}$  és az  $x = \frac{5\pi}{6}$  egyenletű egyenesek, valamint az  $x$  tengely által közrezárt korlátos síkidom területét!

|     |         |  |
|-----|---------|--|
| a)  | 8 pont  |  |
| b)  | 4 pont  |  |
| Ö.: | 12 pont |  |



Azonosító  
jel:

|  |  |  |  |  |  |  |  |  |  |  |  |  |  |  |  |  |  |  |  |
|--|--|--|--|--|--|--|--|--|--|--|--|--|--|--|--|--|--|--|--|
|  |  |  |  |  |  |  |  |  |  |  |  |  |  |  |  |  |  |  |  |
|--|--|--|--|--|--|--|--|--|--|--|--|--|--|--|--|--|--|--|--|

---

Azonosító  
jel:

|  |  |  |  |  |  |  |  |  |  |  |  |  |  |  |  |  |  |  |  |
|--|--|--|--|--|--|--|--|--|--|--|--|--|--|--|--|--|--|--|--|
|  |  |  |  |  |  |  |  |  |  |  |  |  |  |  |  |  |  |  |  |
|--|--|--|--|--|--|--|--|--|--|--|--|--|--|--|--|--|--|--|--|

4. Tekintsük azokat a háromszögeket, amelyeknek  $a$ ,  $b$  és  $c$  oldalaira teljesül, hogy (centiméterben mérve)  $b = a + 4$  és  $c = a + 8$ .
- a) Adott egy ilyen tulajdonságú háromszög, melynek legnagyobb szöge  $120^\circ$ . Határozza meg a háromszög oldalainak hosszát!
- b) Adott egy ilyen tulajdonságú háromszög, melynek leghosszabb oldala 24 cm hosszú. Határozza meg a háromszög területét!
- c) Igazolja, hogy minden ilyen tulajdonságú háromszög kerülete nagyobb, mint 24 cm!

|     |         |  |
|-----|---------|--|
| a)  | 6 pont  |  |
| b)  | 5 pont  |  |
| c)  | 4 pont  |  |
| Ö.: | 15 pont |  |



|  |  |  |  |  |  |  |  |  |  |  |  |  |  |  |  |  |  |  |  |
|--|--|--|--|--|--|--|--|--|--|--|--|--|--|--|--|--|--|--|--|
|  |  |  |  |  |  |  |  |  |  |  |  |  |  |  |  |  |  |  |  |
|--|--|--|--|--|--|--|--|--|--|--|--|--|--|--|--|--|--|--|--|

## II.

**Az 5–9. feladatok közül tetszése szerint választott négyet kell megoldania. A kihagyott feladat sorszámát írja be a 3. oldalon található üres négyzetbe!**

5. Egy szabályos dobókockával hatszor dobtunk. A dobott számok monoton növekvő sorrendben: 1, 2, 2, 3, 3, 3.
- Határozza meg a dobott számok átlagát és szórását!
  - Hány olyan különböző dobássorozat van, amely egy darab 1-esből, két darab 2-esből és három darab 3-asból áll?

Egy szabályos dobókockával kétszer dobtunk.

- Határozza meg annak a valószínűségét, hogy a két dobott szám szorzata 2-vel osztható lesz, de 4-gyel nem!

Egy kék és egy zöld dobókockával dobtunk, a dobás kimenetele egy számpár. Jelölje  $(k, z)$  a dobásnak azt a kimenetelét, amikor a kék kockával dobott szám  $k$ , a zöld kockával dobott szám pedig  $z$ .

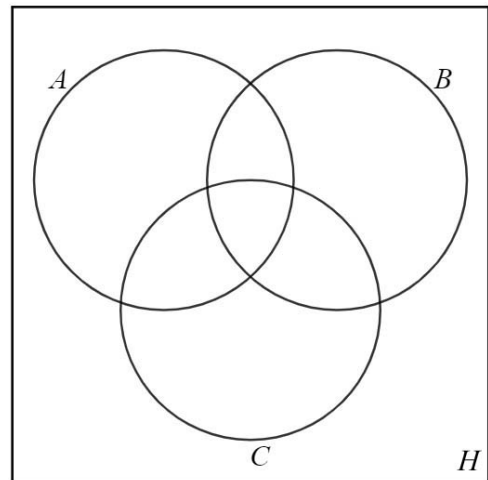
Legyen a  $H$  alaphalmaz a dobás kimeneteleként megkapható összes lehetséges  $(k, z)$  számpár halmaza. Az  $A$ ,  $B$  és  $C$  részhalmazokat a következőképpen definiáljuk:

$$A = \{(k, z) \mid a \ k + z \text{ összeg prím}\}$$

$$B = \{(k, z) \mid a \ k \cdot z \text{ szorzat prím}\}$$

$$C = \{(k, z) \mid k = z\}$$

- Satírozással jelölje a Venn-diagramon a  $H$ -nak azt a részhalmazát, amelyik üres halmaz!  
A Venn-diagram minden egyes további tartományába írjon egy-egy megfelelő számpárt!  
Válaszát itt nem kell indokolnia.



|     |         |  |
|-----|---------|--|
| a)  | 3 pont  |  |
| b)  | 3 pont  |  |
| c)  | 5 pont  |  |
| d)  | 5 pont  |  |
| Ö.: | 16 pont |  |

Azonosító  
jel:

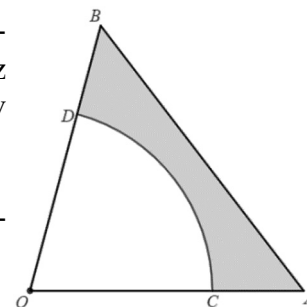
|  |  |  |  |  |  |  |  |  |  |  |  |  |  |  |  |  |  |  |  |
|--|--|--|--|--|--|--|--|--|--|--|--|--|--|--|--|--|--|--|--|
|  |  |  |  |  |  |  |  |  |  |  |  |  |  |  |  |  |  |  |  |
|--|--|--|--|--|--|--|--|--|--|--|--|--|--|--|--|--|--|--|--|

---

|  |  |  |  |  |  |  |  |  |  |  |  |  |  |  |  |  |  |  |  |
|--|--|--|--|--|--|--|--|--|--|--|--|--|--|--|--|--|--|--|--|
|  |  |  |  |  |  |  |  |  |  |  |  |  |  |  |  |  |  |  |  |
|--|--|--|--|--|--|--|--|--|--|--|--|--|--|--|--|--|--|--|--|

**Az 5–9. feladatok közül tetszése szerint választott négyet kell megoldania. A kihagyott feladat sorszámát írja be a 3. oldalon található üres négyzetbe!**

6. Az  $OAB$  egyenlőszárú háromszög  $OA$  és  $OB$  szárai 12 cm hosszúsúak,  $AOB$  szöge  $75^\circ$ . Az  $OA$  szakasz  $C$  pontját és az  $OB$  szakasz  $D$  pontját (az ábra szerint) egy  $O$  középpontú, 8 cm sugarú körív köti össze.



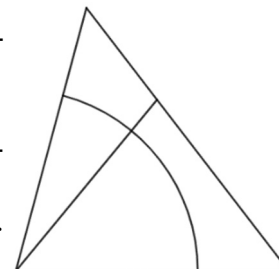
- a) Határozza meg a szürkére színezett tartomány területét és kerületét!

Az  $OAB$  háromszöget megforgatjuk az  $OA$  oldal egyenesére körül.

- b) Határozza meg az így keletkező forgástest térfogatát!

Az ábrán látható négy tartományt piros, kék és zöld színnel színezzük ki úgy, hogy egy tartományhoz egy színt használunk.

- c) Hányféleképpen színezhethetjük ki a négy tartományt, ha szomszédos tartományok nem lehetnek azonos színűek? (Két tartomány szomszédos, ha van közös határvonaluk. A színezéshez nem szükséges mindhárom színt felhasználni.)



|            |         |  |
|------------|---------|--|
| a)         | 8 pont  |  |
| b)         | 4 pont  |  |
| c)         | 4 pont  |  |
| <b>Ö.:</b> | 16 pont |  |

Azonosító  
jel:

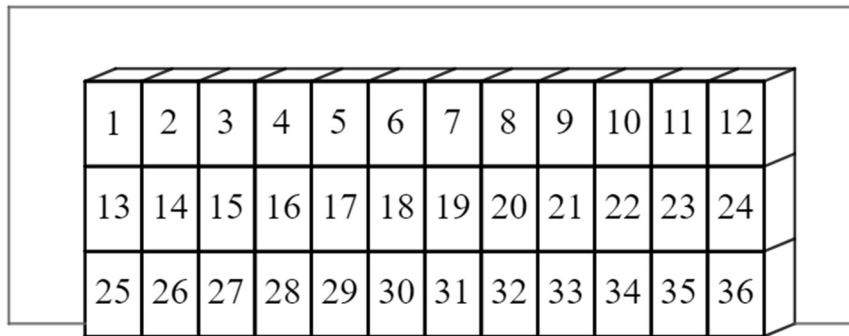
|  |  |  |  |  |  |  |  |  |  |  |  |  |  |  |  |  |  |  |  |
|--|--|--|--|--|--|--|--|--|--|--|--|--|--|--|--|--|--|--|--|
|  |  |  |  |  |  |  |  |  |  |  |  |  |  |  |  |  |  |  |  |
|--|--|--|--|--|--|--|--|--|--|--|--|--|--|--|--|--|--|--|--|

---

|  |  |  |  |  |  |  |  |  |  |  |  |  |  |  |  |  |  |  |  |
|--|--|--|--|--|--|--|--|--|--|--|--|--|--|--|--|--|--|--|--|
|  |  |  |  |  |  |  |  |  |  |  |  |  |  |  |  |  |  |  |  |
|--|--|--|--|--|--|--|--|--|--|--|--|--|--|--|--|--|--|--|--|

**Az 5–9. feladatok közül tetszése szerint választott négyet kell megoldania. A kihagyott feladat sorszámát írja be a 3. oldalon található üres négyzetbe!**

7. Alizék osztálytermében az egyik fal mellett három sorban 12-12, összesen 36 szekrény található a diákok számára, 1-től 36-ig megszámozva. Az osztályba 33-an járnak. Tanév elején minden diák – sorsolás útján – egy-egy szekrényt kap. Három szekrény így a sorsolás után üresen marad.



- a) Legyen az  $A$  esemény az, hogy a három üresen maradó szekrény egy sorban található, a  $B$  esemény pedig az, hogy a három üresen maradó szekrény három különböző sorban található. Melyik eseménynek nagyobb a valószínűsége?

A szekrények téglatest alakúak. Egy-egy szekrény belseje 20 cm széles, 35 cm magas és 30 cm mély.

- b) Határozza meg a leghosszabb egyenes pálca hosszát, ami elhelyezhető a szekrényben! (A pálca vastagságától eltekinthetünk.)

Alíz, Boglárka, Csenge és Dorka szekrénykulcsai összekeveredtek, és a négy lány véletlenszerűen osztja el egymás közt a négy kulcsot.

- c) Határozza meg annak a valószínűségét, hogy legalább két lány a saját kulcsát kapja vissza!

|     |         |  |
|-----|---------|--|
| a)  | 6 pont  |  |
| b)  | 3 pont  |  |
| c)  | 7 pont  |  |
| Ö.: | 16 pont |  |



Azonosító  
jel:

|  |  |  |  |  |  |  |  |  |  |  |  |  |  |  |  |  |  |  |  |
|--|--|--|--|--|--|--|--|--|--|--|--|--|--|--|--|--|--|--|--|
|  |  |  |  |  |  |  |  |  |  |  |  |  |  |  |  |  |  |  |  |
|--|--|--|--|--|--|--|--|--|--|--|--|--|--|--|--|--|--|--|--|

---

|  |  |  |  |  |  |  |  |  |  |  |  |  |  |  |  |  |  |  |  |
|--|--|--|--|--|--|--|--|--|--|--|--|--|--|--|--|--|--|--|--|
|  |  |  |  |  |  |  |  |  |  |  |  |  |  |  |  |  |  |  |  |
|--|--|--|--|--|--|--|--|--|--|--|--|--|--|--|--|--|--|--|--|

**Az 5–9. feladatok közül tetszése szerint választott négyet kell megoldania.  
A kihagyott feladat sorszámát írja be a 3. oldalon található üres négyzetbe!**

- 8.** Egy növényfaj ezer darab magjának tömegét grammban megadva kapjuk az úgynevezett **ezermagtömeget**. Egy bizonyos fajta zab ezermagtömege 35 gramm.

- a) Kb. hány darab magot tartalmaz egy tonna zabmag ebből a fajtából? Válaszát normálalakban adja meg!

Jancsi nyári diákmunkaként zabhegyezést vállalt Kukutyinban. Tudja, hogy ha a zabhegyező gépbe  $k$  kg zabot helyez, akkor a gép  $\frac{k^2}{40} + 90$  perc alatt végez a zabhegyezéssel.

Jancsinak összesen 1000 kg zabot kell kihegyeznie a gép segítségével. Elhatározza, hogy a zabot egyenlő részekre osztva fogja kihegyezni.

- b) Hány óra alatt végez Jancsi a zabhegyezéssel, ha 8 egyenlő részre osztja az 1000 kg zabot?
- c) Az 1000 kg zabot  $n$  egyenlő részre osztjuk ( $n \in \mathbf{Z}^+$ ). Határozza meg  $n$  értékét úgy, hogy az 1000 kg zab kihegyezésének ideje minimális legyen! Hány óra ez a minimális idő?

|     |         |  |
|-----|---------|--|
| a)  | 3 pont  |  |
| b)  | 3 pont  |  |
| c)  | 10 pont |  |
| Ö.: | 16 pont |  |



|  |  |  |  |  |  |  |  |  |  |  |  |  |  |  |  |  |  |  |  |
|--|--|--|--|--|--|--|--|--|--|--|--|--|--|--|--|--|--|--|--|
|  |  |  |  |  |  |  |  |  |  |  |  |  |  |  |  |  |  |  |  |
|--|--|--|--|--|--|--|--|--|--|--|--|--|--|--|--|--|--|--|--|

**Az 5–9. feladatok közül tetszése szerint választott négyet kell megoldania.  
A kihagyott feladat sorszámát írja be a 3. oldalon található üres négyzetbe!**

9. Egy mértani sorozat  $n$ -edik tagja  $a_n = 2 \cdot \left(-\frac{1}{2}\right)^n$  ( $n \in \mathbf{Z}^+$ ).

a) Határozza meg azt a legkisebb  $n$  értéket, amelyre  $|a_n| < 10^{-7}$  teljesül!

b) Határozza meg a mértani sorozat első 10 tagjának összegét! Válaszát  $-\frac{k}{m}$  alakban adja meg, ahol  $k$  és  $m$  relatív prímelek!

A  $\{b_n\}$  sorozat  $n$ -edik tagja  $b_n = 2 \cdot \left(-\frac{1}{2}\right)^n + 2$  ( $n \in \mathbf{Z}^+$ ).

c) Igazolja, hogy (minden pozitív egész  $n$ -re)  $2b_{n+2} - b_{n+1} - b_n = 0$ .

|     |         |  |
|-----|---------|--|
| a)  | 6 pont  |  |
| b)  | 4 pont  |  |
| c)  | 6 pont  |  |
| Ö.: | 16 pont |  |

Azonosító  
jel:

|  |  |  |  |  |  |  |  |  |  |  |  |  |  |  |  |  |  |  |  |  |
|--|--|--|--|--|--|--|--|--|--|--|--|--|--|--|--|--|--|--|--|--|
|  |  |  |  |  |  |  |  |  |  |  |  |  |  |  |  |  |  |  |  |  |
|--|--|--|--|--|--|--|--|--|--|--|--|--|--|--|--|--|--|--|--|--|

---

Azonosító  
jel:

|  |  |  |  |  |  |  |  |  |  |  |  |  |  |  |  |  |  |  |  |
|--|--|--|--|--|--|--|--|--|--|--|--|--|--|--|--|--|--|--|--|
|  |  |  |  |  |  |  |  |  |  |  |  |  |  |  |  |  |  |  |  |
|--|--|--|--|--|--|--|--|--|--|--|--|--|--|--|--|--|--|--|--|

---



Azonosító  
jel:

|  |  |  |  |  |  |  |  |  |  |  |  |  |  |  |  |  |  |  |  |
|--|--|--|--|--|--|--|--|--|--|--|--|--|--|--|--|--|--|--|--|
|  |  |  |  |  |  |  |  |  |  |  |  |  |  |  |  |  |  |  |  |
|--|--|--|--|--|--|--|--|--|--|--|--|--|--|--|--|--|--|--|--|

|   | a feladat<br>sorszám | pontszám                 |       |            |       |
|---|----------------------|--------------------------|-------|------------|-------|
|   |                      | maximális                | elért | maximális  | elért |
| I. rész                                 | 1.                   | 12                       |       | 51         |       |
|   | 2.                   | 12                       |       |            |       |
|   | 3.                   | 12                       |       |            |       |
|   | 4.                   | 15                       |       |            |       |
| II. rész                                |                      | 16                       |       | 64         |       |
|   |                      | 16                       |       |            |       |
|   |                      | 16                       |       |            |       |
|   |                      | 16                       |       |            |       |
|   |                      | ← nem választott feladat |       |            |       |
| <b>Az írásbeli vizsgarész pontszáma</b> |                      |                          |       | <b>115</b> |       |

\_\_\_\_\_ dátum

\_\_\_\_\_ javító tanár

|          | pontszáma <b>egész<br/>számra</b> kerekítve |                    |
|----------|---|--------------------|
|          | elért                                       | programba<br>beírt |
| I. rész  |   |                    |
| II. rész |   |                    |

\_\_\_\_\_ dátum

\_\_\_\_\_ dátum

\_\_\_\_\_ javító tanár

\_\_\_\_\_ jegyző